

МИНИСТАРСТВО ПРОСВЕТЕ, НАУКЕ И ТЕХНОЛОШКОГ РАЗВОЈА РЕПУБЛИКЕ СРБИЈЕ
РЕГИОНАЛНИ ЦЕНТАРИ ЗА ТАЛЕНТЕ РЕПУБЛИКЕ СРБИЈЕ

64. ДРЖАВНО ТАКМИЧЕЊЕ ТАЛЕНТОВАНИХ УЧЕНИКА СРЕДЊИХ ШКОЛА, ПО
НАУЧНИМ ОБЛАСТИМА, РЕПУБЛИКЕ СРБИЈЕ, 22. МАЈ 2022.

Т Е С Т И З Г Е О Г Р А Ф И Ј Е
СРЕДЊА ШКОЛА, 1. РАЗРЕД

Попуњава ученик (попунити читко штампаним словима)

Регионални центар за таленте: _____

Име и презиме: _____

Школа: _____

Град: _____

Разред: _____

(потпис ученика)

Попуњава комисија

Број бодова:

*Време израде теста 90 минута! Тест има 20 задатака. Погрешан одговор не доноси ни
позитивне ни негативне бодове.*

Тест урадила: Милијана Богдановић, професор, Гимназија „Урош Предић”, Панчево
Рецензент: Зорица Помар, професор, Гимназија „Урош Предић”, Панчево

ГЕОГРАФИЈА – 1. РАЗРЕД

1. Заокружи слово испред тачног одговора.

Највећи број

националних паркова у свету има

- а) Бразил
- б) Израел
- в) Тајланд
- г) Аустралија
- д) Кина

(1)

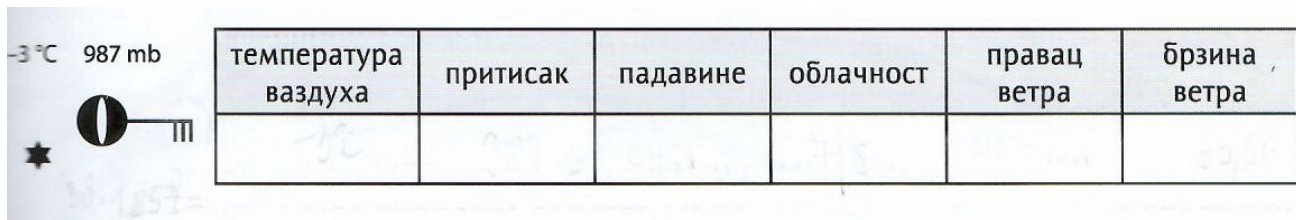
2. У левој колони налазе се **појмови**, а у десној **њихова значења**.

Упиши одговарајућа слова на линије испред тачних објашњења.

- а) Тара _____ споменик природе
- б) Лазарев кањон _____ специјални резерват природе
- в) Авала _____ национални парк
- г) Златибор _____ предео изузетних одлика
- д) Царска бара _____ парк природе

(5)

3. Попуни табелу:



(3)

4. Допуни:

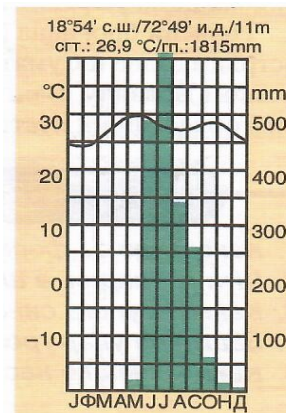
Алbedo је

(1)

5. Заокружи слово испред тачног одговора.

Који **тип климе** је приказан на слици?

- а) тропска монсунска
- б) континентална
- в) медитеранска
- г) тропска пустињска



(2)

6. Заокружи слово испред тачног одговора.

Подморски извори из којих избија слатка или слана вода називају се:

(1)

- а) Врела б) Вруље ц) Издани д) Еставеле е) Потајнице

7. Допуни:

..... је процес уклањања минерала из воде у циљу добијања воде за пиће.

(1)

8. По чему је остао познат **поглавица Сијетл**?

.....

.....

(2)

9. Заокружи слово испред тачног одговора:

Епифите су карактеристичне за природну зону:

- а) тропске кишне шуме б) поларне пустиње
в) четинарске шуме г) тундре

(1)

10. На слици је приказан **специјални резерват**

природе у југозападној Србији који се зове

.....



(1)

11. Повежи **природне зоне са животињама** које их насељавају тако што ћеш на празне линије

уписати одговарајуће слово.

а) поларна пустиња _____ лењивац

б) тундра _____ гепард

в) степа _____ пингвин

г) савана _____ ирвас

д) пустиња _____ бизон

ђ) тропска кишна шума _____ камила

(6)

12. Обим Земље на екватору износи око 40.000 km. Колика је дужина екватора (у km) између меридијана 0° и меридијана 90° ? (2)

.....

13. Подвуци хладне морске струје: (2)

Бразилска Хумболтова Бенгуелска Курошио Голфска

14. Израчунај за колико се степени Земља окрене око своје осе за 2 h 30' ? (2)

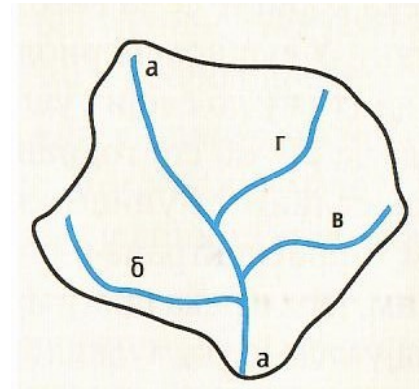
.....

15. Плимски талас на реци Амазон зове се (1)

16. Напиши формулу и израчунај густину речне мреже

ако је: * $L_a = 18 \text{ km}$, * $L_b = 10 \text{ km}$, * $L_v = 7 \text{ km}$, * $L_g = 7 \text{ km}$

и * $F = 150 \text{ km}^2$. (* L = дужина водотока
* F = површина)



.....

.....

17. Заокружи слово испред тачног одговора:

Согне фјорд налази се у:

а) Норвешкој в) Финској (1)

б) Шведској г) Северној Ирској

18. Напиши правилан низ датих појмова идући од узрока до последица: (2)
глобално загревање, топљење ледника, повећање садржаја угљен-диоксида у ваздуху, повећање нивоа Светског мора

.....

.....

19. Допуни: Основни елементи раседа (2)

су:.....,,

..... и

20. Подвуци обале које су познате по клифовима: (2)

албанска украјинска енглеска француска балтичка